
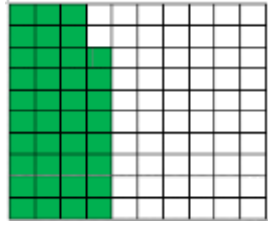

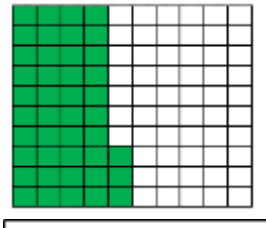

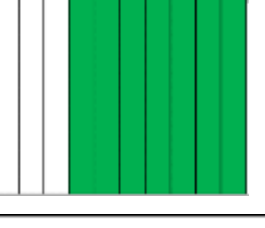



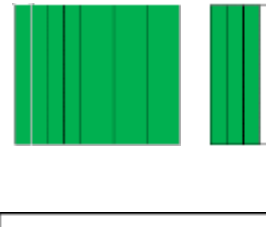

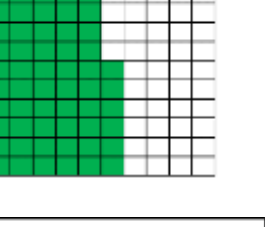


الاسم: \_\_\_\_\_ الصف الرابع \_\_\_\_\_ التاريخ: \_\_\_\_\_

الدرجة	السؤال رقم 1	
اكتب كسراً عشرياً وكسراً اعتيادياً لكل نموذج		
		
<div><div></div><div>=</div></div>	<div><div></div><div>=</div></div>	<div><div></div><div>=</div></div>
		
<div><div></div><div>=</div></div>	<div><div></div><div>=</div></div>	<div><div></div><div>=</div></div>
		
<div><div></div><div>=</div></div>	<div><div></div><div>=</div></div>	<div><div></div><div>=</div></div>
		
<div><div></div><div>=</div></div>	<div><div></div><div>=</div></div>	<div><div></div><div>=</div></div>

الدرجة	السؤال رقم 2
--------	--------------

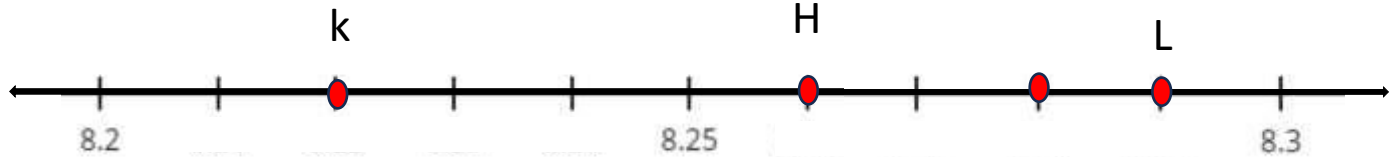
اكتب الكسر العشري الذي تمثله النقطة على خط الأعداد



N=

M=

P=



K=

H=

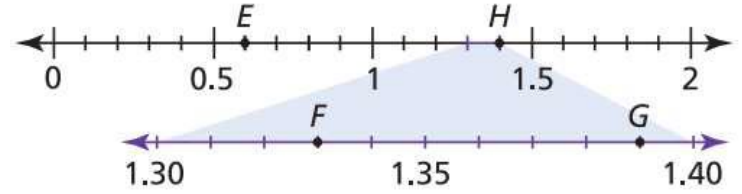
L=

E=

H=

F=

G=



الدرجة	السؤال رقم 3	اكتب > أو < أو = في كل مما يلي.
--------	--------------	---------------------------------

0.70 ○ 0.57

0.41 ○ 0.14

2.2 ○ 0.22

1.1 ○ 1.10

0.31 ○ 0.29

0.44 ○ 0.22

2.98 ○ 2.56

3.40 ○ 3.4

21.50 ○ 20.99

الدرجة	السؤال رقم 4
--------	--------------

مدرسة فيها 100 غرفة صفية، أغلقت 64 من هذه الصفوف للصيانة.  
ما الكسر العشري الذي يمثل عدد الصفوف المغلقة؟

- A. 0.66
- B. 0.65
- C. 0.64
- D. 6.5

مجمع فيه 100 من المحلات، تم إغلاق 25 محل منها.  
ما الكسر العشري الذي يمثل عدد المحلات المغلقة؟

- A. 0.27
- B. 0.25
- C. 2.7
- D. 2.5

الدرجة	السؤال رقم 5
<p>تقطع الحمامة مسافة 9 كيلومترا في الساعة، ما عدد الأمتار التي قطعها الحمامة في الساعة الواحدة؟</p> <p>A. 9 km = 90 m B. 9 km = 900 m C. 9km = 9000 m D. 9 km = 90000 m</p>	<p>قطعت حسناء مسافة 4 كيلومترا في نهاية الاسبوع، كم مترا قطعت حسناء؟</p> <p>A. 4 km = 40m B. 4 km = 400 m C. 4 km = 4000 m D. 4 km = 40000 m</p>
<p>قطع العصفور مسافة 5 كيلومترات في دقيقة واحدة. كم مترا قطع العصفور في هذه الدقيقة؟</p> <p>A. 5 km = 50 m B. 5 km = 500 m C. 5 km = 5000 m D. 5 km = 50000 m</p>	<p>حدد الكسر العشري الذي يجعل المقارنة صحيحة <math>18.60 &gt; \underline{\hspace{1cm}}</math></p> <p>A. 18.75 B. 18.85 C. 18.25 D. 18.99</p>
<p>حدد الكسر العشري الذي يجعل المقارنة صحيحة <math>\underline{\hspace{1cm}} &lt; 15.38</math></p> <p>A. 15.35 B. 15.75 C. 15.95 D. 15.99</p>	<p>حدد الكسر العشري الذي يجعل المقارنة صحيحة <math>11.60 &gt; \underline{\hspace{1cm}}</math></p> <p>A. 11.75 B. 11.55 C. 11.77 D. 11.99</p>

الدرجة	السؤال رقم 6
<p>اوجد طول الضلع الناقص n</p> <div style="display: flex; align-items: center; justify-content: center;"> <div style="border: 1px solid black; padding: 10px; margin: 10px;"> <p>المساحة = <math>88 \text{ Cm}^2</math></p> </div> <div style="margin: 0 10px;">8 cm</div> </div> <p><u>                    </u> n</p> <p>A. 80 B. 10 C. 11 D. 88</p>	<p>اوجد طول الضلع الناقص n</p> <div style="display: flex; align-items: center; justify-content: center;"> <div style="border: 1px solid black; padding: 10px; margin: 10px;"> <p>المساحة = <math>30 \text{ Cm}^2</math></p> </div> <div style="margin: 0 10px;">5cm</div> </div> <p><u>                    </u> n</p> <p>A. 6 B. 60 C. 10 D. 66</p>
<p>اوجد طول الضلع الناقص n</p> <div style="display: flex; align-items: center; justify-content: center;"> <div style="border: 1px solid black; padding: 10px; margin: 10px;"> <p>المساحة = <math>30 \text{ Cm}^2</math></p> </div> <div style="margin: 0 10px;">3 cm</div> </div> <p><u>                    </u> n</p> <p>A. 30 B. 10 C. 3 D. 33</p>	<p>اوجد طول الضلع الناقص n</p> <div style="display: flex; align-items: center; justify-content: center;"> <div style="border: 1px solid black; padding: 10px; margin: 10px;"> <p>المساحة = <math>40 \text{ Cm}^2</math></p> </div> <div style="margin: 0 10px;">4 cm</div> </div> <p><u>                    </u> n</p> <p>A. 4 B. 40 C. 10 D. 44</p>

السؤال رقم 7	الدرجة 2
لدى عائشة 7 لترات من عصير التفاح. كم مللتر من عصير التفاح لدى عائشة؟	
وضح عملك هنا	
السؤال رقم 8	الدرجة 2
شربت غالية 2 لترات من الماء. كم مللتر من الماء شربت غالية؟	
وضح عملك هنا	

السؤال رقم 9	الدرجة 2
اشترت سوسن 1 كيلوجرام من العنب، وفي طريقها إلى المنزل أكلت 400 جرام من هذه الكمية. كم جراماً من العنب بقي لدى سوسن؟	
وضح عملك هنا	
السؤال رقم 10	الدرجة 2
اشترت دانة 3 كيلوجرام من التوت، وفي طريقها إلى المنزل أكلت 1600 جرام من هذه الكمية. كم جراماً من التوت بقي لدى دانة؟	
وضح عملك هنا	